
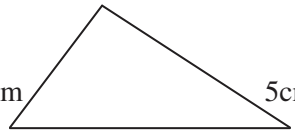
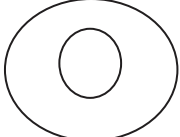



प्रोजेक्ट कार्य
कक्षा उदय से तृतीय तक 2020-21

क्रमांक	कक्षा	हिन्दी	संस्कृत	अंग्रेजी	गणित	पर्यावरण
1	उदय	मानव शरीर के अंग	-	fruits name	आकृतियां	-
2	प्रथम	फलों के नाम	-	pet animals name	आकृतियां	वृक्ष या तिरंगे का चित्र
3	द्वितीय	नाव का चित्र	संज्ञा पदों का चार्ट	body parts chart	2 से 15 तक पहाड़ा चार्ट	पौधे का चित्र नाम सहित
4	तृतीय	पेड़ का चित्र	फूलों के चित्र	kite drawing	घड़ी का चित्र	घर का चित्र

जनवरी, फरवरी एवं मार्च माह में कक्षा पूर्वार्द्ध से तृतीय तक प्रोजेक्ट कार्य विद्यालय स्तर पर विषयाचार्यों द्वारा तय किये जावें एवं उनके अभिलेखों को विद्यालय में संधारित किया जाना है।

कक्षा - चौथी
जनवरी 2021

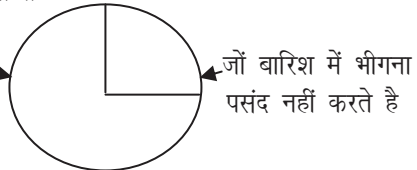
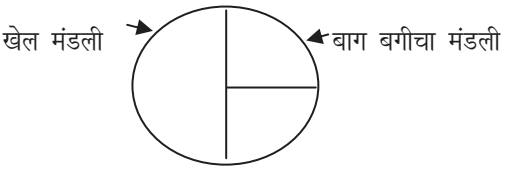
विषय	प्रोजेक्ट / परियोजना	प्रदत्त / असाइमेंट
हिन्दी	प्रश्न-1 26 जनवरी पर 10 वाक्य लिखिए? प्रश्न-2 जनजातियों के औजारों एवं रहन-सहन का चार्ट बनाइए?	<p>प्रश्न-1 बहुवचन लिखिए- जैसे- जाति-जातियाँ गति - पत्नी -</p> <p>प्रश्न-2 उदाहरण के अनुसार शब्दों को मिलाकर लिखिए- जैसे- चित्र + अंकित = चित्रांकित पृष्ठ + अंकित = रेखा + अंकित =</p> <p>प्रश्न-3 मध्यप्रदेश की प्रमुख जनजातियाँ कौन-कौन सी है? प्रश्न-4 गोड़ी चित्रकला शैली को क्या कहते है? प्रश्न-5 'गुदनी' चित्रकला में कौन-कौन सी मिट्टी का प्रयोग किया जाता है?</p>
गणित	प्रश्न-1 16 से 20 तक पहाड़ा चार्ट प्रश्न-2 पुस्तक के पैटर्न पर पहाड़	<p>प्रश्न-1 नीचे दिये गए वर्ग के घेरे की लंबाई पता लगाओं।</p> <p style="text-align: center;">5 cm</p> <div style="text-align: center;">  </div> <p>प्रश्न-2 नीचे दिए गए त्रिभुज के घेरे की लंबाई पता लगाओं।</p> <div style="text-align: center;">  </div> <p>प्रश्न-3 एक हॉकी का मैदान 91मीटर 40सेमी लंबा और 55मीटर चौड़ा है। मैदान के की लंबाई कितनी होगी?</p> <p>प्रश्न-4 उषा और वालसम्या दौड़ लगा रही है। उषा भीतरी गोले में दौड़ रही है। वालसम्या बाहरी गोले में दौड़ रही है। वालसम्या उषा से तेज दौड़ती है पर फिर भी दौड़ हार जाती है क्या तुम बता सकते हो क्यों?</p> <div style="text-align: center;">  </div> <p>प्रश्न-5 नीचे दिए गए मेज़पोश का चित्र देखो और यह बताओ कि एक मेज़पोश के लिए कितनी लेश की जरूरत पड़ेगी?</p> <div style="text-align: center;">  </div>

अंग्रेजी	Collect and paste picture of a postman, a doctor and a driver in your notebook.	<p>Q-1 Answer the following questions-</p> <p>a) Who brings letters? b) Does a postman come in uniform? c) What other things does the postman brings? d) Do people wait for the postman? e) How long does a postman walk?</p>
संस्कृत	<p>प्रश्न-1 सुभाषितानि-2 के प्रोजेक्ट कार्य में 5 श्लोक एक चार्ट में लिखें।</p>	<p>प्रश्न-1 एतेषा प्रश्नानाम् उत्तराणि लिखतु:- क) फलं कुतः पतति? ख) महिला कुतः आगच्छति? ग) घटी कुतः पतति? घ) सिंहः कुतः आगच्छति?</p> <p>प्रश्न-2 रिक्त स्थानानि उचितैः वाक्यैः पूरयित्वा तः इति प्रयोगेन प्रवासचक्रं पूर्णं करोतु- रमेशस्य प्रवासचक्रम्</p> <div style="text-align: center;"> <pre> graph TD दिल्ली --> भाग्यनगरम् दिल्ली --> कानपुरम् भाग्यनगरम् --> भुवनेश्वरम् कानपुरम् --> पाटलिपुत्रम् भुवनेश्वरम् --> कलकत्ता पाटलिपुत्रम् --> कलकत्ता </pre> </div> <p>1) रमेशः दिल्लीतः कानपुरं गच्छति? 2) 3) 4) 5) 6)</p>
पर्यावरण	<p>प्रश्न-1 नोटों का चार्ट बनाइए?</p>	<p>प्रश्न-1 आपके यहाँ कौन-कौन से त्यौहार मिलकर मनाए जाते हैं? प्रश्न-2 बोर्डिंग स्कूल और दूसरे स्कूल किन-किन बातों में अलग होते हैं? प्रश्न-3 क्या लड़का-लड़की और आदमी-औरत के लिए अलग-अलग नियम होने चाहिए? प्रश्न-4 अक्षय की दादी माँ ने उसे अनिल के घर का पानी तक पीने के लिए क्या मना किया होगा? प्रश्न-5 आपके घर में जरूरी फैसले कौन लेता है? आपको इस बारे में क्या लगता है?</p>

कक्षा - चौथी
फरवरी 2021

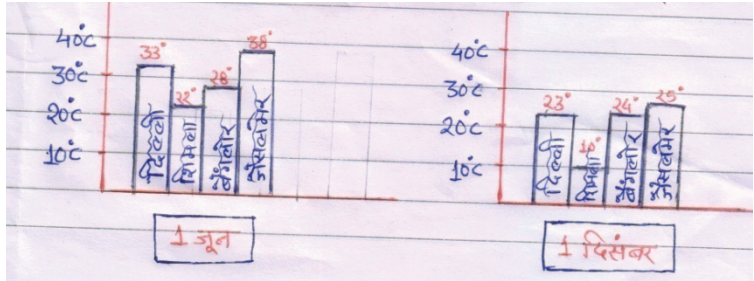
विषय	प्रोजेक्ट / परियोजना	प्रदत्त / असाइमेंट
हिन्दी	प्रश्न-1 अपने कक्षाचार्य को तीन दिन के अवकाश के लिए प्रार्थना पत्र लिखिए? प्रश्न-2 निबंध लिखिए- गाय	प्रश्न-1 निम्न शब्दों के लिए एक शब्द लिखिए- जैसे-जिसका कोई न हो- अनाथ 1) जिसके हृदय में दया न हो- 2) जो देश भक्त हो- प्रश्न-2 निम्नलिखित वाक्यों को उदाहरण के अनुसार बदल कर लिखिए- जैसे- पुल्लिंग स्त्रीलिंग मैं पढ़ता हूँ मैं पढ़ती हूँ 1) तुम लिखते हो 2) वे चलते हैं प्रश्न-3 गांधी जी ने सैर करना क्यों अच्छा माना? प्रश्न-4 गांधी जी का जन्म कब और कहा हुआ? प्रश्न-5 सुलेख के विषय में गांधी के क्या विचार थे?
गणित	प्रश्न-1 12 का पहाड़ा बनाने के लिए आप कौन से दो पहाड़ों का प्रयोग करेंगे?	प्रश्न-1 कन्नू ने 17 सीपियों से एक माला बनाई। 100 सीपियों से ऐसी कितनी मालाएँ बनाई जा सकती हैं? प्रश्न-2 नीलू अपनी कक्षा में कहानियों की 15 किताबें लेकर आई। आज कक्षा में 45 छात्र हैं। एक किताब में कितने छात्र मिलकर पढ़ेंगे? प्रश्न-3 8 लोगों के परिवार में एक महीने में 60 किलो गेहूँ की जरूरत होती है। एक सप्ताह में इस परिवार में कितने किलो गेहूँ की जरूरत होगी? प्रश्न-4 रजिया को 500 रूपय के खुल्ले चाहिए। उसे कितने नोट मिलेंगे अगर वह बदले में चाहे- क) सभी 100रूपये के नोट?..... ख) सभी 50रूपये के नोट?..... ग) सभी 20रूपये के नोट?..... घ) सभी 5रूपये के नोट?.....
अंग्रेजी	Q-2 Project Work- Collect the picture of any five historical places in India.	Q-1 Answer the following questions- a) Who built the Bhojpur temple? b) What does A.S.I stand for? c) What is the structure of the temple made of? d) What did the priest tell about the temple? e) What is special about the shivalinga at the Bhojpur temple?
संस्कृत	प्रश्न-1 सूक्तयः प्रोजेक्ट कार्य में 10 सूक्तियाँ एक चार्ट में लिखें।	प्रश्न-1 एतेषां प्रश्नानाम् उत्तराणि लिखतु:- क) मयूरः कदा नृत्यं करोति? ख) कमलानि कदा विकसन्ति? ग) कः परीक्षायाम् उत्तीर्णः भवति? प्रश्न-2 रिक्त स्थानानि उचितैः पदैः पूरयतु:- 1) वर्षा भवतिकृषकः आनन्दम् अनुभवति। 2)लता गायतिउषाः न गायति। प्रश्न-3 एतेषां पदानाम् आधारेण वाक्यानि रचयतु:- 1) यदा-तदा 2) या-सा
पर्यावरण	प्रश्न-1 ऐसे कौन से मसाले हैं, जो हम दवाइयों के रूप में भी उपयोग करते हैं। सूची बनाइए?	प्रश्न-1 पोचमपल्ली क्या है? प्रश्न-2 उसको तैयार करने का तरीका पता करो? प्रश्न-3 रेगिस्तानी इलाके में पेड़-पौधे कम क्यों होते हैं? प्रश्न-4 सिक्कों पर मूल्य के अलावा और क्या लिखा होता है? प्रश्न-5 सेना की तरह कौन-कौन सी नौकरियों में लोग वर्दी पहनते हैं?

कक्षा - चौथी
मार्च 2021

विषय	प्रोजेक्ट / परियोजना	प्रदत्त / असाइमेंट
हिन्दी		<p>प्रश्न-1 निम्नलिखित शब्दों को वाक्यों में प्रयोग कीजिए- जैसे- महर्षि-महर्षि चरक महान आयुर्वेदाचार्य थे।</p> <p>1) शिष्य 2) प्रणाम</p> <p>प्रश्न-2 सही () गलत () के चिन्ह लगाइए- 1) हमें ताजे फल और सब्जियाँ नहीं खाना चाहिए। 2) जो नियमित व्यायाम करता है वह सदा स्वस्थ रहता है।</p> <p>प्रश्न-3 महर्षि चरक कौन थे? प्रश्न-4 महर्षि चरक ने शिष्यों से क्या कहा? प्रश्न-5 चरक संहिता क्या है?</p>
गणित	<p>प्रश्न-1 अपने घर के लोगों से कहो कि वे एक कार्यक्रम बताएँ जो उन्हें पसंद है और एक कार्यक्रम जो उन्हें नापसंद है।</p>	<p>प्रश्न-3 पाई चार्ट को देखो और बताओ- जो बारिश में भीगना पसंद करते हैं</p>  <p>1) कितने बच्चे बारिश में भीगना पसंद करते हैं? क) आधे ख) एक-चौथाई ग) तीन-चौथाई 2) कितने बच्चे बारिश में भीगना पसंद नहीं करते हैं? क) आधे ख) एक-चौथाई ग) तीन-चौथाई</p> <p>प्रश्न-5 पाई चार्ट को देखो और बताओ</p>  <p>अगर स्कूल में 200 छात्र है तो ऊपर चार्ट को देखकर हर मंडली में सदस्यों की संख्या बताओ-</p> <p>1) खेल मंडली में सदस्य है। 2) बाग बगीचा मंडली में..... सदस्य है। 3) चित्रकला मंडली में..... सदस्य है।</p>
अंग्रेजी		<p>Q-1 Answer the following questions-</p> <p>a) Where was the tree? b) What grew around the tree? c) What was there in the nest? d) Who was on the egg? e) Where's the nest?</p>
संस्कृत		<p>प्रश्न-1 एतेषां प्रश्नानाम् उत्तराणि लिखतुः</p> <p>क) सिंहः कुत्र निवसति? ख) सिंहं दृष्ट्वा शशः किं करोति? ग) शशः सिंहं कुत्र नयति? घ) कुपितः सिंहः किं करोति?</p>

		<p>प्रश्न-2 रिक्त स्थानं योग्येन पदेन पूरयतु:-</p> <ol style="list-style-type: none"> 1) सिंहः प्रतिदिनंमृगं खादति। 2) अये भवान् रोदनं करोति। 3) एवं शशः..... आत्मरक्षणं करोति।
पर्यावरण		<p>प्रश्न-1 पता करो, लद्दाख कहाँ है?</p> <p>प्रश्न-2 चुसकित दूसरे बच्चों से कैसे अलग है?</p> <p>प्रश्न-3 लद्दाख के सभी बच्चें स्कूल कैसे जाते है?</p> <p>प्रश्न-4 तुम्हें स्कूल में क्या-क्या करना अच्छा लगता है?</p> <p>प्रश्न-5 चुसकित किस-किस की मदद से स्कूल पहुँचा पाई है?</p>

कक्षा - पांचवी जनवरी 2021

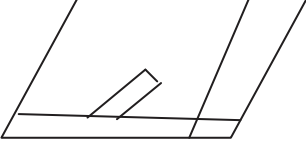
विषय	प्रोजेक्ट / परियोजना	प्रदत्त / असाइमेंट																					
हिन्दी	1 रानी अवंतीबाई की तरह अन्य वीरांगनाओं की सूची चित्र लगाकर बनाइये ।	1. कहानी का सार अपने शब्दों में लिखिए एवं 1857 की क्रांति में रानी अवंतीबाई के योगदान का महत्व बताइये । 2. रानी दुर्गावती एवं लक्ष्मीबाई के प्रसंगों का उल्लेख कर पाठ का नाट्य रूपान्तर कर सांस्कृतिक भाग तैयार करें । 3. रानी अवंतीबाई के जीवन प्रसंगों से परिचय एवं उनके त्याग और बलिदान के विषय में लिखिये -																					
गणित	प्रश्न-1 दूरदर्शन पर अपना मनपसंद कार्यक्रम देखते हुए हर ब्रेक में आने वाले विज्ञापनों को टैली चिन्हों की सहायता से गिनो। विज्ञापन में यदि कोई बच्चा नजर आए तो उस टैली चिन्ह के नीचे बिन्दु लगाओ। पता करो- 1) कितने विज्ञापनों में बच्चों को लिया गया? 2) विज्ञापनों में बच्चों को क्यों लिया जाता है?	<p>प्रश्न-1 तालिका देखकर प्रश्नों के उत्तर लिखिए-</p> <table border="1" style="width: 100%; border-collapse: collapse;"> <thead> <tr> <th></th> <th>टैली चिन्ह</th> <th>संख्या</th> </tr> </thead> <tbody> <tr> <td>साइकिल</td> <td>☒ ☒ ☒ ☒ ☒ ☒ ☒</td> <td></td> </tr> <tr> <td>कार</td> <td>☒ ☒ ☒</td> <td></td> </tr> <tr> <td>ऑटो रिक्शा</td> <td>☒ ☒ ☒ ☒</td> <td></td> </tr> <tr> <td>बस</td> <td>☒ ☒ ☒</td> <td></td> </tr> <tr> <td>साइकिल रिक्शा</td> <td>☒ ☒ ☒ ☒</td> <td></td> </tr> <tr> <td>ट्रक</td> <td>☒ ☒</td> <td></td> </tr> </tbody> </table> <p>1) हरेक तरह की गाड़ियों की संख्या तालिका में लिखो। 2) आधे घंटे में सड़क पर कुल कितनी गाड़ियाँ देखी। 3) ट्रकों से ऑटो रिक्शों की संख्या तिगुनी थी-सही या गलत। 4) 7 और बसों के लिए, और 2 और ट्रकों के लिए टैली चिन्ह लगाओ।</p> <p>प्रश्न-2 नीचे दो बार-चार्ट हैं। इनमें दो अलग-अलग दिनों में चार शहरों का अधिकतम तापमान दिखाया गया है। ये शहर हैं-दिल्ली, शिमला, बैंगलोर और जैसलमेर</p> <p>बार चार्ट से पता करो-</p>  <p>1) 1 जून को कौन-सा शहर सबसे गर्म है? 2) 1 दिसंबर को कौन-सा शहर सबसे ठंडा है? 3) किस शहर में 1 जून और 1 दिसंबर के बीच तापमान में सबसे कम बदलाव आया?</p>		टैली चिन्ह	संख्या	साइकिल	☒ ☒ ☒ ☒ ☒ ☒ ☒		कार	☒ ☒ ☒		ऑटो रिक्शा	☒ ☒ ☒ ☒		बस	☒ ☒ ☒		साइकिल रिक्शा	☒ ☒ ☒ ☒		ट्रक	☒ ☒	
	टैली चिन्ह	संख्या																					
साइकिल	☒ ☒ ☒ ☒ ☒ ☒ ☒																						
कार	☒ ☒ ☒																						
ऑटो रिक्शा	☒ ☒ ☒ ☒																						
बस	☒ ☒ ☒																						
साइकिल रिक्शा	☒ ☒ ☒ ☒																						
ट्रक	☒ ☒																						
अंग्रेजी	Q-2 Project Work- Draw the hands of the clock to show the time written under them. 1) It's half past ten.(10:30) 2) It's quarter to five.(4:45) 3) It's quarter past three.(3:15)	Q-1 Answer the following questions- 1) What is clock? 2) How many months have thirty days? 3) How many months have thirty one days? 4) Write five sentences on "My Watch"? 5) Which month has twenty eight days except in a leap year?																					

संस्कृत	क) स्वदेशी वस्तुओं का चार्ट बनाना है संस्कृत शब्दों का प्रयोग करते हुए?	<p>प्रश्न-1 एतेषां प्रश्नानाम् उत्तराणि लिखतु-</p> <p>क) याज्ञवल्क्यः मूषिकां किं कृतवान्?</p> <p>ख) पुत्री किमर्थं सूर्यः न इष्टवती?</p> <p>ग) मूषकः किमर्थं बलवान्?</p> <p>घ) अन्ते केन सह याज्ञवल्क्यः पुत्रयाः विवाहं कारितवान्?</p> <p>प्रश्न-2 कोष्ठके विद्यमानस्य पदस्य सहाय्येन वाक्यानि लिखतु:-</p> <p>1) सुधीरः बुद्धिमान्। (श्रीधरः)</p> <p>2) महाभारत वृहद् काव्यम्। (रामायणम्)</p> <p>3) भाषणं सुलभम्। (लेखनम्)</p> <p>4) रञ्जनी कृशा। (अञ्जनी)</p>
पर्यावरण	1 खेती से जुड़े त्यौहारों की जानकारी एकत्र करवाकर चार्ट बनाइये	<p>प्र.1 निम्नांकित में से सही उत्तर चुनकर लिखिए</p> <p>1 दामजी भाई का परिवार किस राज्य में रहता था । क गुजरात ख आंध्रप्रदेश</p> <p>2. अनाज को कीड़ों से बचाने के लिए किस पेड़ की पत्तियाँ प्रयोग की जाती हैं क आम ख नीम</p> <p>प्र.2 निम्नांकित त्यौहारों के बारे में जानकारी दीजिए क. लोहड़ी ख पोंगल</p> <p>प्र.3 किन्हीं चार अनाजों के नाम लिखिए जिनसे रोटियाँ बनाई जाती हैं?</p> <p>प्र.4 अनाज को कीड़ों से बचाने के लिए आप क्या उपाय करेंगे ?</p> <p>प्र.5 दामजी भाई की खेती व हंसमुख की खेती में क्या अंतर है?</p>

कक्षा - पांचवी
फरवरी 2021

विषय	प्रोजेक्ट / परियोजना	प्रदत्त / असाइमेंट
हिन्दी	पाठ के आधार पर अच्छी आदतों की सूची बनाकर चार्ट तैयार कीजिये	1. जापान में शायद अच्छे फल नहीं मिलते । उपयुक्त कथन का वक्ता कौन है ? परिचय दे । 1 जापानी युवक ने वक्ता से पैसे न लेकर क्या आग्रह किया? और क्यों ? 2 विदेशी विद्यार्थी को जापान से क्यों निकाल दिया गया एवं उस विद्यार्थी की हरकत से उसके देश का सम्मान किस तरह घटा ?
गणित	प्रश्न-1 19.5 सेमी वर्ग के कागज की सहायता से कागज का घन बनाइए । अथवा प्रश्न- इंजेक्शन सिरिज या खाली दवाई की बोतल की सहायता से मापक बोतल बनाइए ।	प्रश्न-1 बेला के तरीके से गुणा कीजिए- 1) 47*19 2) 163*42 प्रश्न-2 शिवांगी के तरीके से हल करिए- 1) 969/4 2) 576/12 प्रश्न-3 भाग करो और उत्तर को गुणा द्वारा जाँच करो - 678/6 प्रश्न-4 एक टैंक में 300 लिटर पानी भरा हुआ है। 25 टैंकों के अंदर कितना पानी भरा जा सकता है अगर एक टैंक पानी से 15 बाल्टियाँ भरी जा सकती हैं, तो 25 टैंकों के पानी से कुल कितनी बाल्टियाँ भरी जा सकती हैं? प्रश्न-5 उम्र का खेल- 1) अपनी उम्र लिखो 2) उसको 7 से गुणा करो..... 3) उत्तर को 13 से गुणा करो..... 4) फिर दोबारा उस उत्तर को 11 से गुणा करो..... 5) उत्तर में तुम्हारी उम्र कितनी बार दिखाती है?.....
अंग्रेजी	Draw or paste the picture of parrot and write five sentences.	Q-1 Answer the following questions- 1) What does the poem 'My Dog' talk about? 2) Find out the rhyming words in the poem? 3) Find out the adjectives from the poem? 4) Which strange do you like most? 5) What message do you get from the poem?
संस्कृत	प्रश्न-1 सूक्तियों के पाठ से 10 सूक्तियाँ चार्ट में लिखना है।	प्रश्न-1 एतेषां प्रश्नानाम् उत्तराणि लिखतु- क) प्रदाशिनी किमर्थम् आयोजितवन्तः? ख) जनाः किमर्थम् आगच्छन्ति? ग) क्रीडासाधनानि किमर्थं सन्ति? घ) भिक्षुकेभ्यः के यच्छन्ति? प्रश्न-2 कोष्ठके विद्यमानस्य क्रियापदस्य उचितं पदम् उदाहरणानुसारं लिखतु:- यथा-राघवः क्रीडितु (क्रीडति) क्रीडाड्डुण गच्छति । 1) श्यामः फलानि (आनयति) आपणं गतवान् । 2) रमा (लिखति) वर्णलेखनीम् आनीतवती । 3) जनाः नाटकं (पश्यन्ति) कलामंदिरं गच्छन्ति ।
पर्यावरण	1. जंगलो से प्राप्त होने वाली जडी बूटियों के चित्र एकत्रित करें तथा उनके सम्बन्ध में संक्षिप्त जानकारी दें 2. जंगल समाप्त होने के दुष्परिणाम के बारे में चार्ट बनाइये ।	प्र 1 सही विकल्प चुनकर लिखिए 1 आदिवासियों की जीविकोपार्जन का मुख्य साधन है क जंगली उत्पाद ख. नौकरी 2 झुम खेती भारत के किस राज्य में होती है? क मध्य प्रदेश ख. अरुणाचल प्रदेश प्र. 2 एक शब्द में उत्तर दीजिए- 1. कुडुक भाषा में तोररांग शब्द का अर्थ क्या है ? 2. नक्शे में जंगल को किस रंग से दर्शाया जाता है ? प्र. 3 झुम खेती किसे कहते हैं प्र 4 यदि कहीं बहुत सारे पेड़ उगाए गए हो तो क्या वह जंगल बन जायेगा ? प्र. 5 सूर्यमणि कहती है यदि जंगल नहीं बचेगे तो हम भी नहीं बचेगे एंसा क्यों?

कक्षा - पांचवी
मार्च 2021

विषय	प्रोजेक्ट / परियोजना	प्रदत्त / असाइमेंट								
हिन्दी		<p>1 हिन्दी साहित्य के किन किन कवियों/लेखकों का सम्बन्ध उज्जैन से रहा है उनके बारे में जानकारी दीजिये—</p> <p>2 उज्जैन में लगने वाला कुभ मैला (सिंहस्थ) का वर्णन कीजिये—</p> <p>3 राजा विक्रमादित्य के विषय में लिखिये —</p> <p>4 उज्जयिनि (उज्जैन) के महत्व का वर्णन कीजिए।</p>								
गणित		<p>प्रश्न-1 माचिस की डिब्बी का आयतन ज्ञात करिए।</p>  <p>लंबाई—5 सेमी चौड़ाई—3.5 सेमी ऊँचाई—1 सेमी</p> <p>प्रश्न-2 दो रूपये के एक सिक्के का वजन 6 ग्राम है। दो रूपये के सिक्के वाली बोरी का वजन कितना होगा अगर उसमें— क) 2200 सिक्के हैं ख) 3000 सिक्के हैं</p> <p>प्रश्न-3 एक 100 रूपये का नोट असली है या नकली यह जाँचने के लिए हमें किन-किन चीजों पर ध्यान देना चाहिए?</p> <p>प्रश्न-4 एक किलो टमाटर को सुखाने पर वे 100ग्राम रह जाते हैं। यदि हमें 600ग्राम सूखे टमाटर चाहिए तो हमें कितने ताजा टमाटर सुखाने पड़ेगें?</p> <p>प्रश्न-5 अगर एक जवान हाथी एक दिन में 136 किलो भोजन खाता है तो एक महीने में लगभग कितने किलो भोजन खाएगा? एक साल में कितने किलो भोजन खाएगा?</p>								
अंग्रेजी		<p>Q-1 Answer the following questions-</p> <p>1) Where did Siddhartha find the wounded swan?</p> <p>2) Why was Siddhartha moved with pity?</p> <p>3) How was the swan wounded?</p> <p>4) What did Siddhartha do to save the swan?</p> <p>5) Who got the swan finally?</p>								
संस्कृत		<p>प्रश्न-1 एतेषां प्रश्नानाम् उत्तराणि लिखतु— क) विवेकानन्दस्य जन्म कुत्र अभवत्? ख) विवेकानन्दस्य पिता कः? ग) विवेकानन्दस्य प्रथमं नाम किम् आसीत्? घ) विवेकानन्दः वाणी कीदृशी आसीत्? ङ) विवेकानन्दः भारतीयान् किं सम्बोधितवान्?</p> <p>प्रश्न-2 एतानि पर्यायपदानि लिखतुः— बाल्यम् साधुः माता शिष्या</p> <p>प्रश्न-3 एतानि विपरीतार्थक पदानि लिखतुः दरिद्रः संशयः आसीत् सर्वत्र</p>								
पर्यावरण		<p>प्र.1 तालिका को पूर्ण कीजिए</p> <table border="1" data-bbox="717 1675 1495 1822"> <thead> <tr> <th>उपयोग</th> <th>खनिज का नाम</th> </tr> </thead> <tbody> <tr> <td>इमारतें बनाने में</td> <td>लोहा</td> </tr> <tr> <td>कांच काटने में आभूषण बनाने में</td> <td></td> </tr> <tr> <td>विजली के तार बनाने में</td> <td></td> </tr> </tbody> </table> <p>प्र.2 मध्य प्रदेश के निम्न शहरों के उपनाम बताइये 1. जबलपुर 2. भोपाल</p> <p>प्र.3 जायद फसले किसे कहते हैं ?</p> <p>प्र.4 प्राकृतिक दृष्टि से मध्य प्रदेश के पाँच मुख्य पठार कौन से हैं ?</p> <p>प्र.5 सोया राज्य के नाम से किस राज्य को जाना जाता है?</p>	उपयोग	खनिज का नाम	इमारतें बनाने में	लोहा	कांच काटने में आभूषण बनाने में		विजली के तार बनाने में	
उपयोग	खनिज का नाम									
इमारतें बनाने में	लोहा									
कांच काटने में आभूषण बनाने में										
विजली के तार बनाने में										

प्रोजेक्ट वर्क कक्षा 6वी

विषय	अध्याय	प्रोजेक्ट / परियोजना	अध्याय	प्रदत्त/ असाइमेंट
जनवरी 2021				
हिन्दी	पाठ 12 पद और दोहे	पाँच कवियों के चित्र बनाकर उनके नाम लिखिए।	पाठ-12	सूरदास जी के 5 दोहे अर्थ सहित लिखिए।
संस्कृत	त्रयोदश: पाठ	चतुर: वानर: कथायां चित्रं निर्माणं कुरु	चतुर्दश: पाठ:	जन्तुशाला भ्रमण करोति पंच जन्तुनां पंच पंच वाक्यानां संस्कृत भाषायां लिखतु
अंग्रेजी	-	Collect & Paste the Picture of items which is made of leather.	Lesson-9 The cobbler and the fairies	Make a list of the necessary things which you need while going on summer vacation.
गणित	अध्याय -13	अंग्रेजी वणमाला (केपीटल) में से क्षेत्रज व ऊर्ध्वाधर अक्ष पर सममित वर्णों की सूची बनाइए। पृथक वर्ण बनाकर उनके सममित कक्षों को दर्शाइए।	13	समद्विबाहु त्रिभुज, समबाहु त्रिभुज, आयत एवं वर्ग की परिभाषा चित्र सहित लिखिए। इनके सममित अक्षों की संख्या व अक्षों को चित्रों में प्रदर्शित कीजिए।
विज्ञान	अध्याय-14 जल	वर्षा जल संग्रहण	अध्याय -13	चुंबक का इतिहास, गुण प्रकार, कार्य तथा उपयोग लिखिए।
सामाजिक विज्ञान	पाठ-13 समुदाय एवं सामुदायिक विकास	जनभागीदारी से कार्य करते हुए शहरों/गांवों के लोगों के द्वारा लिये गये कार्यों के चित्र संकलित कीजिए।		समुदाय क्या है? इसकी विशेषताएँ बताते हुये समुदाय के विकास में स्थानीय लोगों की भागीदारी सुनिश्चित कीजिये।

प्रोजेक्ट वर्क कक्षा 6वी

विषय	अध्याय	प्रोजेक्ट / परियोजना	अध्याय	प्रदत्त/ असाइमेंट
फरवरी 2021				
हिन्दी	पाठ 14 पंच परमेश्वर	पाँच महापुरुषों के चित्र बनाकर उनके नाम लिखिए।	पाठ-13	पंच परमेश्वर पाठ का सारांश लिखिए।
संस्कृत	पंचदश: पाठ:	ध्वजस्थलस्य ध्वजोरोहणं चित्रं निर्माणं कुरुत।	षोडश: पाठ:	शिक्षा प्रियता भोजस्य व्यक्तित्वं वर्णनं कुरुत
अंग्रेजी		Collect pictures of 10 freedom fighters & paste them on your note book.	Lesson 10 A kind boy	Write a letter to your uncle you wants to thank him for sending him a lovely gift on his birthday
गणित	14	न्यूनकोण, समकोण, अधिककोण, सरलकोण और संपूरक कोण की चित्र सहित परिभाषाएँ लिखिए।		12.8 सेमी लम्बाई का रेखाखण्ड खींचिए। रूलर और परकार की सहायता से इसको चार बराबर- बराबर भागों में विभाजित कीजिए। रचना लिखिए और प्रत्येक भाग को माप लिखिए तथा जाँच कीजिए कि हमारा विभाजन सही है।
विज्ञान	अध्याय-15 हमारे चारे और वायु	पवन चक्की	अध्याय 14	तीन क्रियाकलापों की सूची बनाइये जिससे आप जल बचा सकते हैं। प्रत्येक क्रियाकलाप को कैसे करेंगे इसका उल्लेख कीजिए।
सामाजिक विज्ञान	पाठ-14 जनजातीय समाज	जनजातीय समाज के आभूषण एवं वाद्ययंत्रों के चित्र संकलित कीजिये।	पाठ-15	मध्यप्रदेश राज्य के प्रतीक चिन्हों के बारे में संक्षिप्त जानकारी दीजिये।

प्रोजेक्ट वर्क कक्षा 6वी

विषय	अध्याय	प्रोजेक्ट / परियोजना	अध्याय	प्रदत्त/ असाइमेंट
मार्च 2021				
हिन्दी	पाठ 15 उपवास	-		उपवास से होने वाले दस लाभ लिखिए।
संस्कृत	-	-	पंचदश: पाठ:	राष्ट्र ध्वजस्य वर्णनं कुरुत:
अंग्रेजी	-	-	Lesson 12 Birbal and washerman	Write a story of Akbar & Birbal in your own words.
गणित	14			एक वृत्त खींचिए और तीन बिन्दु A, B और C इस प्रकार अंकित कीजिए कि- 1. बिन्दु A वृत्त के अन्तर्गत में स्थित हो। 2. बिन्दु B वृत्त पर स्थित हो। 3. बिन्दु C वृत्त के बाहर स्थित हो।
विज्ञान	-	-	अध्याय-16	कचरे का निपटान अथवा पुनःचक्रण।
सामाजिक विज्ञान	पाठ-16 हमारा देश भारत	-		भारत के राज्य/केन्द्र शासित प्रदेश एवं राजधानियों का संक्षिप्त वर्णन कीजिये।

प्रोजेक्ट वर्क कक्षा 7वी

विषय	अध्याय	प्रोजेक्ट / परियोजना	अध्याय	प्रदत्त/ असाइमेंट
जनवरी 2021				
हिन्दी	पाठ-13 सुभाषचन्द्र बोस का पत्र	पांच महापुरुषों के चित्र बनाकर उनके नाम लिखिए।	पाठ-13	सुभाषचन्द्र बोस जी के जीवन से जुड़ी रोचक व प्रेरक कहानी लिखिए।
संस्कृत	चतुर्दश: पाठ:	लोकमान्यतिलक: चित्र निर्माण कुरुत।	त्रयोदश: पाठ:	संस्कृत भाषायां सौरमण्डले नवग्रहैः वर्तने कुरुत।
अंग्रेजी		Draw a picture of the fair	Lesson 13 One way Ticket-II	Talk to your friends about varioul Sweets, dishets they like to eat and the swings/ rides they enjoy in a fair and write them in the table. Ask your friend these questions: 1. What's your name? 2. Which sweets & disher do you like most 3. which swings do you prefer? 4. What rides did you take in the fair you visiled tast?
गणित	पाठ-14 सममिति	सममिति की परिभाषा दीजिए एवं अपने आसपास दिखाई देने वाली कोई पांच सममित वस्तुओं के चित्र चिपकाइए।	पाठ-13 घात और घातांक	घातांकों के नियमों को उदाहरण सहित समझाइयें।
विज्ञान	अध्याय-14 विद्युत एवं इसके प्रभाव	विद्युत घंटी	अध्याय-13	गति के प्रकार का विस्तृत वर्णन कीजिए?
सामाजिक विज्ञान	पाठ-13	अकबर द्वारा निर्मित इमारतों के चित्र संकलित करते हुये उनकी विशेषताएँ लिखिये।		अकबर की राजपूत नीति एवं धार्मिक नीति को समझाते हुये मुगल साम्राज्य के क्षेत्र विस्तार को समझाइयें।

प्रोजेक्ट वर्क कक्षा 7वी

विषय	अध्याय	प्रोजेक्ट / परियोजना	अध्याय	प्रदत्त/ असाइमेंट
फरवरी 2021				
हिन्दी	पाठ-14 वात्सल्य के पद	भक्तिकाल के पाँच कवियों के चित्र बनाकर उनके नाम लिखिये।	पाठ-14	रस की परिभाषा एवं रस के प्रकार लिखिए।
संस्कृत	पंचदश: पाठ:	एक: जलाशये निर्माण अनागतविधाता प्रत्युत्पन्नमति: हामत्स्या: चित्रं निर्माण कुरुत:।	षोडश: पाठ:	भारतीय वैज्ञानिका: नागार्जुन: पराशर:, भास्कर:, अगस्त्य: आर्यभट्ट: प्रमुखगन्थ: विषय: लिखतु।
अंग्रेजी		Colled the picture of Historical place in M.P. & Paste them.	Lesson 14 A visit to Orchha	Write a letter to your friend telling him about your visit to Kanha.
गणित	पाठ-15 टोस आकारों का चित्रण	कोई भी वॉच समबहुभुजों को बनाकर उसमें अलग-अलग अक्ष से कितनी सममित रेखाएँ खींची जा सकती है चित्र द्वारा बताइए।	पाठ-14 सममिति	रैखिक और घूर्णन सममिति को परिभाषित कीजिए एवं चित्र के माध्यम से समझाइए।
विज्ञान	अध्याय-16 जल	वर्षा जल संग्रहण	अध्याय-15	दर्पण किसे कहते हैं? प्रकार तथा उपयोग को विस्तार पूर्वक समझाइयें।

सामाजिक विज्ञान	पाठ-14	शाहजहाँ के शासनकाल की इमारतों का वर्णन करते हुये चित्र संकलित कीजिये।	जहांगीर की शासन व्यवस्था को समझाते हुये जहांगीर एवं शाहजहाँ के शासन को वैभव एवं विलासिता का युग क्यों कहते हैं? समझाइयें।
-----------------	--------	---	---

प्रोजेक्ट वर्क कक्षा 7वी

विषय	अध्याय	प्रोजेक्ट / परियोजना	अध्याय	प्रदत्त/ असाइमेंट
मार्च 2021				
हिन्दी	-	-	पाठ-15 नीव का पत्थर	1857 की क्रांति में महारानी लक्ष्मीबाई की भूमिका का उल्लेख कीजिए।
संस्कृत	-	-	चतुर्दशः पाठः	बालगंगाधरतिलकस्य विशिष्टाणि कार्याणि प्रसिद्धानि लिखतु।
अंग्रेजी	-	-	Lesson-15 Laxmi Bai the Queen of Jhansi	Write a paragraph about the qualities of Maharani Laxmi Bai
गणित	.	.	पाठ-15 टोस आकारों का चित्रण	घनाभ, पिरामिड, घन आकृतियों में फलक, किनारे और शीर्ष को समझाइयें एवं उनकी संख्याएँ को बताइये।
विज्ञान	-	-	अध्याय-16	जल का एक महत्वपूर्ण स्रोत- “भूमिजल” विस्तार पूर्वक समझाइयें।
सामाजिक विज्ञान	पाठ-15	-		राष्ट्रपति की शक्तियों का वर्णन करते हुये क्रमानुसार भारत के राष्ट्रपति के चित्रों की तालिका बनाइयें।

प्रोजेक्ट वर्क कक्षा 8वीं				
विषय	अध्याय	प्रोजेक्ट / परियोजना	अध्याय	प्रदत्त/ असाइमेंट
जनवरी 2021				
हिन्दी	पाठ-13 न यह समझो कि हिन्दुस्तान की तलवार सोई है	महापुरुषों के नाम व चित्र बनाइयें		हिन्दी महीनों के नाम व तिथियों को समझाइयें।
संस्कृत	त्रयोदशः पाठः	छत्रपति शिवाजी चित्र निर्माण कुरुत।	चतुर्दशः पाठः	देवीअहिल्यायाः व्यक्तित्वं कथं कुरुत।
अंग्रेजी		Draw the picture of yaksha on left side & right side of Yudhisthira write any 5 questions which asked by yakst to Yudhisthira & also write the answer given by Yudhisthira.	Lesson 13 Vintue pays	Write the story of virtue pays in your own words
गणित		गणित में 15 पहेलियाँ (बूझो तो जाने) लिखिए जैसे- आपके पास आठ के आठ अंक है उन्हें इस प्रकार जोड़ों की कुल जमा 1000 आए? उत्तर- $888+88+8+8+8 = 1000$		घात और घातांक के पाठ सूत्रों को उदाहरण सहित लिखिए।
विज्ञान	अध्याय-13 ध्वनि	मानव नेत्र	अध्याय-13	ध्वनि प्रदूषण को विस्तार पूर्वक समझाइए ?
सामाजिक विज्ञान	पाठ-13 उत्तर अमेरिका का भौगोलिक स्वरूप	उत्तर अमेरिका के मानचित्र में निम्न को दशाइये- 1. अप्पेसियन पर्वत 2. मिसिसिपी, सेंटनारेंस नदी 3. मेक्सिको, हडसन की खाड़ी 4. महान झील क्षेत्र 5. प्रेयरी का मैदान		कौण्धारी वनों एवं उसमें पाये जाने वाले जीव-जन्तुओं का उल्लेख कीजिये।

प्रोजेक्ट वर्क कक्षा 8वीं

विषय	अध्याय	प्रोजेक्ट / परियोजना	अध्याय	प्रदत्त/ असाइमेंट
फरवरी 2021				
हिन्दी	पाठ-14 नवसंवत्सर	बारह राशियों के नाम व चित्र		महेश्वर से संबंधित पौराणिक कक्षा लिखिये।
संस्कृत	पंचदशः पाठः	नर्मदा नद्याः तटे धार्मिकस्थलस्य चित्रं निर्माणं कुरुत।	षोडशः पाठः	कवित्वं कालिदासस्य जीवनं परिचय विन्दुनुसारं लिखत् च कविः कालिदासः पंच रचनाः च नाटकस्य लिखतु च
अंग्रेजी		Collect the pictures of any five patriotic leader & paste them & write five sentences on each.	Lesson -14 Azad the Martyrs	Write a paragraph about Chandra Shekhar Azad
गणित		1 से 20 तक वर्ग तथा 1 से 20 तक घन लिखिए।		प्रतिलोम समानुपात के 10-10 उदाहरण लिखिए।
विज्ञान	अध्याय-15 कुछ प्राकृतिक परिघटनाएँ	पृथ्वी की आंतरिक संरचना	अध्याय-15	भूकम्प किसे कहते हैं? इसके कारण, उपाय तथा बचाव को विस्तृत वर्णन कीजिये।

सामाजिक विज्ञान	पाठ- 14 उत्तर अमेरिका का आर्थिक स्वरूप	उत्तर अमेरिका के मानचित्र में निम्न को दशाइये- 1. पनामा नहर 2. ओशवा 3. प्रेयरी का मैदान 4. न्यूफाउन्टलैंड 5. सेनफ्रांसिस्को		उत्तर अमेरिका की प्रमुख फसलों का वर्णन करते हुए उत्तर अमेरिका इतना उन्नत महाद्वीपीय बन गया? कारण बताइयें।

प्रोजेक्ट वर्क कक्षा 8वीं

विषय	अध्याय	प्रोजेक्ट / परियोजना	अध्याय	प्रदत्त/ असाइमेंट
मार्च 2021				
हिन्दी	पाठ-16 पथिक से	-		डॉ. शिवमंगल सिंह सुमन का जीवन परिचय
संस्कृत	-	-	षोडशः पाठः	अभिज्ञानशाकुन्तल नाटयस्य संस्कृत भाषायां लिखत् च अभिनयं कुरुतः।
अंग्रेजी	-	-	Lesson -15 A secret	Find out a poem on Birds or trees & write it visit your library for this purpose.
गणित	-	-		दण्ड आलेख वृत्त चित्र आयत चित्र, रेखा आलेख बनाइए।
विज्ञान	-	-	अध्याय-16	प्रकाश का परावर्तन किसे कहते हैं परावर्तन के प्रकार तथा नियम समझाइयें।
सामाजिक विज्ञान	पाठ- 15, 16			दक्षिण अमेरिका में पैदा होने वाली नकदी फसलों का वर्णन करते हुये उत्पादक देशों की सूची बनाइयें।